



Her sayının bu sayfasında sizlere satranç ustalarının oyunlarından problemler sunacağız. Soruları çözerken taşların konumunu, taşlar arasındaki yardımlaşmayı incelemek de öğretici olacaktır. Şimdilik tek hamlelik sorular.

Aşağıdaki konumların tamamı ustaların oyunlarından alındı. Onlar oynamış, son hamleyi yapıp mat etmek de satranca yeni başlayanlara kalmış. Bakalım bir hamlede matları bulabilecek misiniz?



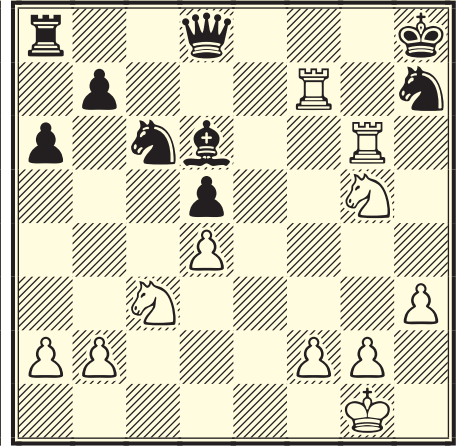
Carlsen, M. - Ernst, S. (2004)

1. Sıra siyahta




Sulskis, S. - Holmsten, A. (2001)

2. Sıra beyazda




Moreno, A. - Alvarez, A. (1997)

3. Sıra beyazda




Kholmov, Ratmir D. - Collas, D. (1994)

4. Sıra beyazda



Balashov, S. - Yandemirov, V. (1993)

5. Sıra siyahta



Lanka, Z. - Piskov, Yury (1988)

6. Sıra beyazda

Yanılar: 1. Ve1+0-1 2. Ae5+1-0 3. Kxh7+1-0 4. Vh7+1-0 (Kxh7+1-0) 5. Vh2+0-1 6. Vh7+1-0