


Bu sayımızdan itibaren ustalardan alınan soruları, usta adayları için sunuyoruz. Bakalım iki hamlede matları bulabilecek misiniz?

Soruları çözerken, şah çekilebilecek yerleri, şahın gidebileceği kareleri, rakibin tehditlerini ya da yapabileceği diğer hamleleri göz önünde tutmayı unutmayınız.


Wainright



1- Beyaz oynar, iki hamlede mat eder.

0-1 #b7c2 f3x4 e4#1

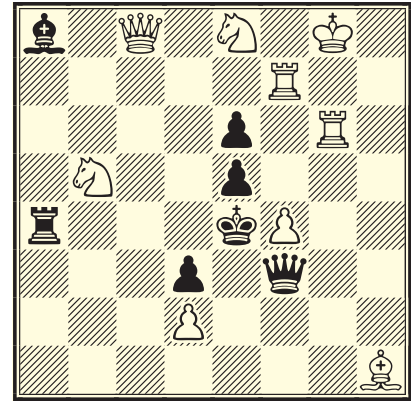
Gamage



2- Beyaz oynar, iki hamlede mat eder.

0-1 #g9x2 f4x5 e6#1

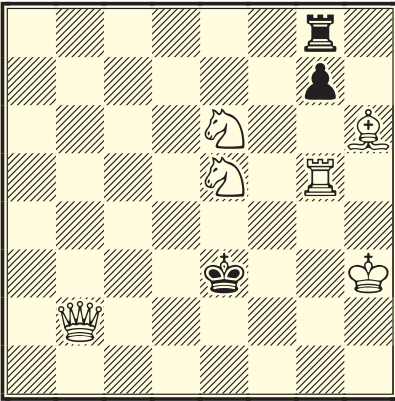
Heathcote



3- Beyaz oynar, iki hamlede mat eder.

0-1 #f8x2 e6#1

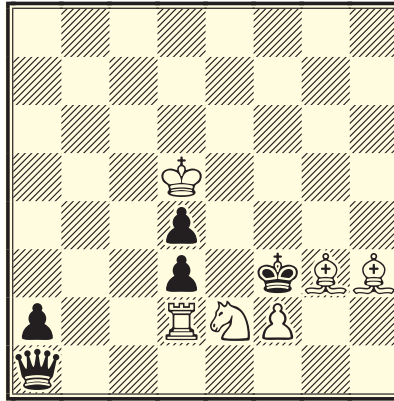
Lloyd



4- Beyaz oynar, iki hamlede mat eder.

0-1 #f3e2 g4x3 f8#1

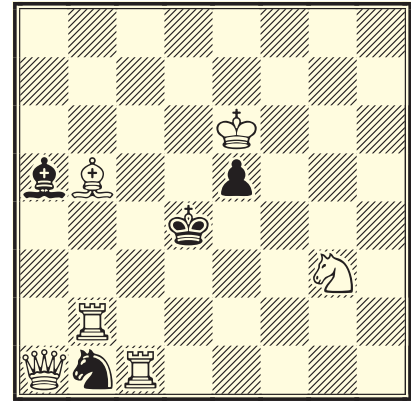
Mansfield



5- Beyaz oynar, iki hamlede mat eder.

0-1 #p9x2 d1x2 e4#1

Conray



6- Beyaz oynar, iki hamlede mat eder.

1 f8c3 e3x2 e7#1